

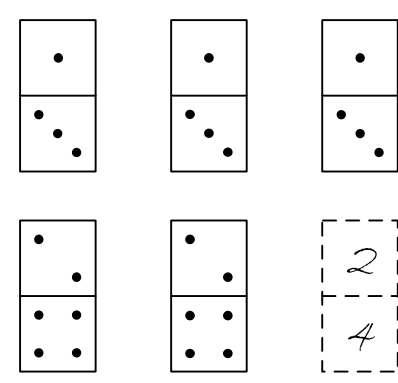
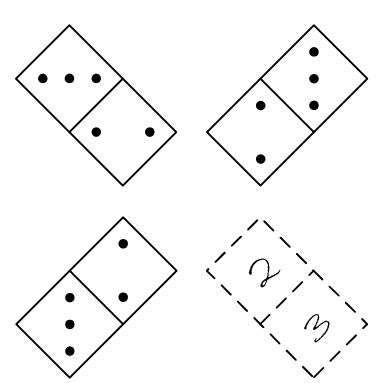
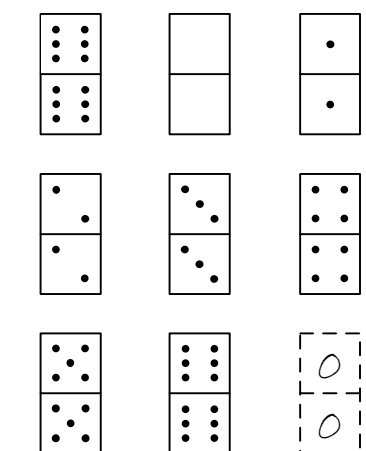
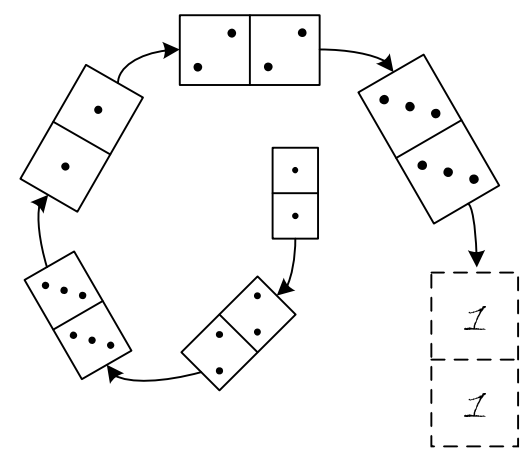
Инструкция

Каждое задание в этой тетради представляет из себя группу фишек домино. Расположение фишек на рисунке, а также количество точек, изображенных на фишках, подчинено определенному правилу. В каждом задании имеется фишка, нарисованная пунктирной линией. Количество точек в этой фишке не обозначено. Вам необходимо установить количество точек в обеих половинах пустой фишки и обозначить свое решение в бланке ответов.

Обратите внимание на то, что количество точек на пустой фишке в бланке ответов необходимо обозначать цифрами.

В тетради с заданиями не делайте никаких пометок и ничего не пишете!

Примеры

<p>А</p> 	<p>Б</p> 
<p>В</p> 	<p>Г</p> 

<p>1</p>	<p>2</p>
<p>3</p>	<p>4</p>
<p>5</p>	<p>6</p>

Сразу приступайте к работе на следующей странице!

<p>7</p>	<p>8</p>	<p>9</p>
<p>10</p>	<p>11</p>	
<p>12</p>	<p>13</p>	

Сразу приступайте к работе на следующей странице!

<p>14</p>	<p>15</p>
<p>16</p>	<p>17</p>
<p>18</p>	<p>19</p>

Сразу приступайте к работе на следующей странице!

<p>20</p>	<p>21</p>	
<p>22</p>	<p>23</p>	
<p>24</p>	<p>25</p>	

Сразу приступайте к работе на следующей странице!

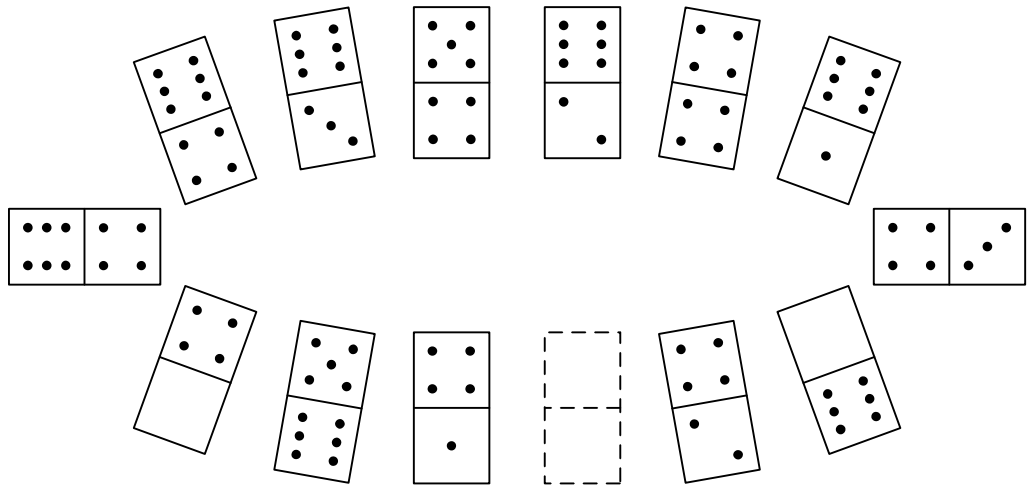
<p>27</p>	<p>28</p>
<p>29</p>	<p>30</p>
<p>31</p>	<p>32</p>

Сразу приступайте к работе на следующей странице!

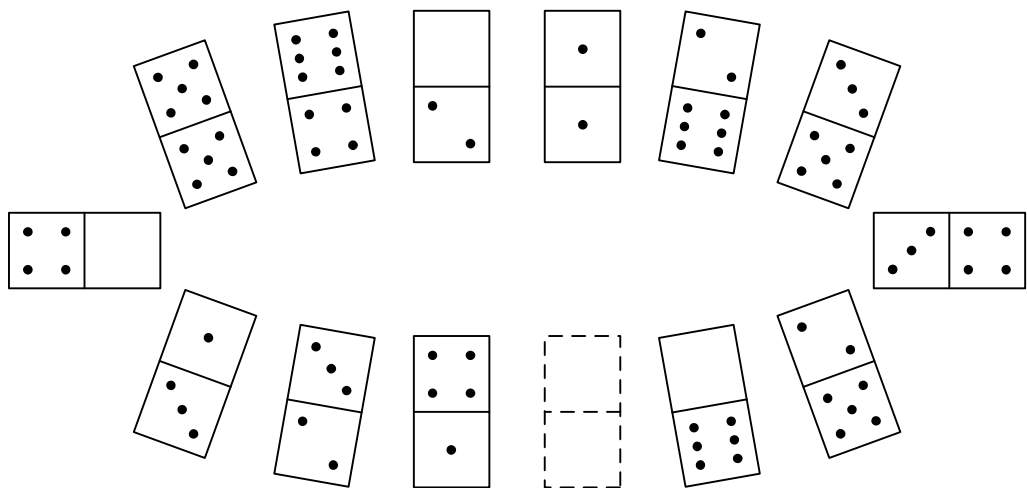
<p>33</p>	<p>34</p>
<p>35</p>	<p>36</p>
<p>37</p>	<p>38</p>

Сразу приступайте к работе на следующей странице!

39



40



Сразу приступайте к работе на следующей странице!

<p>41</p>	<p>42</p>
<p>43</p>	<p>44</p>