

Стимульный материал методики «Краткий ориентировочный тест». Форма А

Инструкция: Вам предлагается несколько простых заданий. Прочтите внимательно эту страницу и без команды не переворачивайте ее.

Познакомьтесь с образцами заданий и правильными ответами на них:

"Быстрый" является противоположным по смыслу слову:

1 – тяжелый, 2 – упругий, 3 – скрытный, 4 – легкий, 5 – медленный.

Правильный ответ: 5

Бензин стоит 44 цента за литр. Сколько стоит 2,5 литра?

Правильный ответ: 110 центов или 1,1 доллар.

Минер - минор. Эти два слова являются:

1 – сходными, 2 – противоположными,

3 – ни сходными, ни противоположными по значению.

Правильный ответ: 3.

Ответ запишите в соответствующую клеточку на бланке ответов.

Тест, который Вам будет предложен сейчас, содержит 50 вопросов. На выполнение теста Вам дается 15 минут. Ответьте на столько вопросов, на сколько сможете, и не тратьте много времени на один вопрос. Если необходимо – пользуйтесь бумагой для записи. О том, что Вам не понятно, спросите сейчас. Во время выполнения теста ответы на ваши вопросы даваться не будут.

После команды «Начали!» переверните страницу и начинайте работать.

Через 15 минут, по команде, сразу же прекратите выполнение заданий, переверните страницу и отложите ручку.

Сосредоточьтесь. Положите ручку рядом. Ждите команды.

1. Одиннадцатый месяц года – это:
1 – октябрь, 2 – май, 3 – ноябрь, 4 – февраль.
2. "Суровый" является противоположным по значению слову:
1 – резкий, 2 – строгий, 3 – мягкий, 4 – жесткий, 5 – неподатливый.
3. Какое из приведенных ниже слов отлично от других:
1 – определенный, 2 – сомнительный, 3 – уверенный, 4 – доверие, 5 – верный.
4. Ответьте *Да* или *Нет*. Сокращение "н.э." означает: "нашей эры" (новой эры)?
5. Какое из следующих слов отлично от других:
1 – петь, 2 – звонить, 3 – болтать, 4 – слушать, 5 – говорить.
6. Слово "безукоризненный" является противоположным по своему значению слову:
1 – незапятнанный, 2 – непристойный, 3 – неподкупный,
4 – невинный, 5 – классический.
7. Какое из приведенных ниже слов относится к слову "жевать" как *обоняние* и *нос*:
1 – сладкий, 2 – язык, 3 – запах, 4 – зубы, 5 – чистый
8. Сколько из приведенных ниже пар слов являются полностью идентичными?

Sharp M.C. Sharp M.C.
Filder E.H. Filder E.N.
Connor M,G. Conner M,G.
Woesner O.W. Woerner O.W.
Soderquist P.E. Soderquist B.E.

9. "Ясный" является противоположным по смыслу слову:
1 – очевидный, 2 – явный, 3 – недвусмысленный, 4 - отчетливый, 5 – тусклый.
10. Предприниматель купил несколько подержанных? автомобилей за 3500 долларов, а продал их за 550 долларов заработав при этом 50 долларов за автомобиль. Сколько автомобилей он продал?
11. Слова "стук" и "сток" имеют:
1 – сходное значение, 2 – противоположное,
3 – ни сходное, ни противоположное.
12. Три лимона стоят 45 копеек. Сколько стоит 1,5 дюжины.

13. Сколько из этих 6 пар чисел являются полностью одинаковыми?

5296 5296

66986 69686

834426 834426

7354256 7354256

61197172 61197172

83238224 83238234

14. "Близкий" является противоположным словом:

1 – дружеский, 2 – приятельский, 3 – чужой, 4 – родной, 5 – иной.

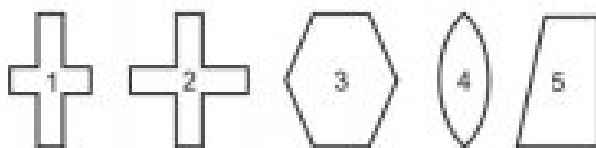
15. Какое число является наименьшим:

6 0,7 9 36 0,31 5?

16. Расставьте предлагаемые ниже слова в таком порядке, чтобы получилось правильное предложение. В качестве ответа запишите две последние буквы последнего слова.

одни ухада они гостей после наконец остались

17. Какой из приведенных ниже пяти рисунков наиболее отличен от других?



18. Два рыбака поймали 36 рыб. Первый поймал в 8 раз больше, чем второй. Сколько поймал второй?

19. "Восходить" и "возродить" имеют:

1 – сходное значение, 2 – противоположное,
3 – ни сходное, ни противоположное.

20. Расставьте предлагаемые ниже слова в таком порядке, чтобы получилось утверждение. Если оно правильно, то ответ будет П, если неправильно – Н.

Мхом обороты камень набирает заросший.

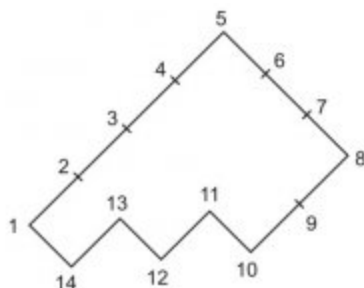
21. Две из приведенных ниже фраз имеют одинаковый смысл, найдите их:

1. Держать нос по ветру.
2. Пустой мешок не стоит.
3. Трое докторов не лучше одного.
4. Не все то золото, что блестит.
5. У семи нянек дитя без глаза.

22. Какое число должно стоять вместо знака «?»:

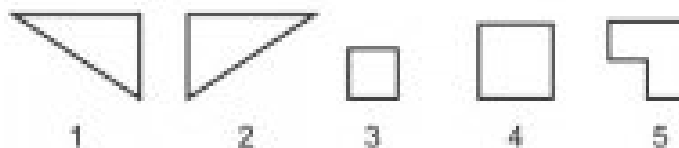
73 66 59 52 45 38 ?

23. Длительность дня и ночи в сентябре почти такая же, как и в:
1 — июне, 2 — марте, 3 — мае, 4 — ноябре.
24. Предположим, что первые два утверждения верны. Тогда заключительное будет: 1 — верно, 2 — неверно, 3 — неопределенно.
Все передовые люди — члены партии.
Все передовые люди занимают крупные посты.
Некоторые члены партии занимают крупные посты.
25. Поезд проходит 75 см за $\frac{1}{4}$ с. Если он будет ехать с той же скоростью, то какое расстояние он пройдет за 5 с?
26. Если предположить, что два первых утверждения верны, то последнее:
1 — верно, 2 — неверно, 3 — неопределенно.
Боре столько же лет, сколько Маше.
Маша моложе Жени.
Боря моложе Жени.
27. Пять полукилограммовых пачек мясного фарша стоят 2 руб. Сколько килограмм фарша можно купить за 80 коп?
28. *Расстлать* и *растянуть*. Эти слова:
1 — схожи по смыслу, 2 — противоположны, 3 — ни схожи, ни противоположны.
29. Разделите эту геометрическую фигуру прямой линией на две части так, чтобы, сложив их вместе, можно было получить квадрат:



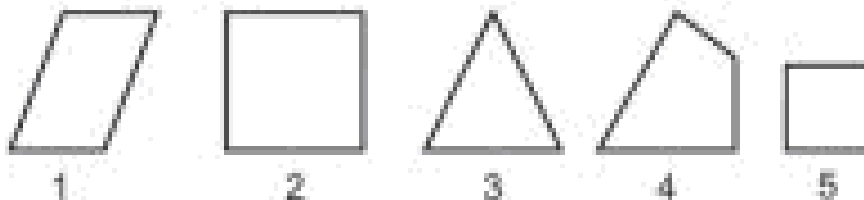
30. Предположим, что первые два утверждения верны. Тогда последнее будет:
1 — верно, 2 — неверно, 3 — неопределенно.
Саша поздоровался с Машей.
Маша поздоровалась с Дашей.
Саша не поздоровался с Дашей.
31. Автомобиль «Жигули» стоимостью 2400 руб. был уценен во время сезонной распродажи на $33\frac{1}{3}\%$. Сколько стоил автомобиль во время распродажи?

32. Три из пяти фигур нужно соединить таким образом, чтобы получилась равнобедренная трапеция:



33. На платье требуется $2\frac{1}{3}$ м. ткани. Сколько платьев можно сшить из 42 м?
34. Значения следующих двух предложений:
1 — сходны, 2 — противоположны, 3 — ни сходны, ни противоположны.
Трое докторов не лучше одного. Чем больше докторов, тем больше болезней.
35. Увеличивать и расширять. Эти слова:
1 — сходны, 2 — противоположны, 3 — ни сходны, ни противоположны.
36. Смысл двух английских пословиц:
1 — схож, 2 — противоположен, 3 — ни схож, ни противоположен.
Швартоваться лучше двумя якорями.
Не клади все яйца в одну корзину.
37. Бакалейщик купил ящик с апельсинами за 3,6 долл. В ящике их было 12 дюжин. Он знает, что 2 дюжины испортятся еще до того, как он продаст все апельсины. По какой цене ему нужно продавать апельсины, чтобы получить прибыль в $\frac{1}{3}$ закупочной цены?
38. Претензия и претенциозный. Эти слова по своему значению:
1 — схожи, 2 — противоположны, 3 — ни сходны, ни противоположны.
39. Если бы полкило картошки стоило 0,0125 руб, то сколько килограмм можно было бы купить за 50 коп?
40. Один из членов ряда не подходит к другим. Каким числом Вы бы его заменили?
 $\frac{1}{4}$ $\frac{1}{8}$ $\frac{1}{8}$ $\frac{1}{4}$ $\frac{1}{8}$ $\frac{1}{8}$ $\frac{1}{4}$ $\frac{1}{8}$ $\frac{1}{6}$.
41. Отражаемый и воображаемый. Эти слова являются.
1 — сходными, 2 — противоположными,
3 — ни сходными, ни противоположными,
42. Сколько соток составляет участок длиной 70 м и шириной 20 м?
43. Следующие две фразы по значению:
1 — сходны, 2 — противоположны, 3 — ни сходны, ни противоположны. Хорошие вещи дешевы, плохие дороги.
Хорошее качество обеспечивается простотой, плохое — сложностью.

44. Солдат, стреляя в цель, поразил ее в 12.5% случаев. Сколько раз солдат должен выстрелить, чтобы поразить ее сто раз?
45. Один из членов ряда не подходит к другим. Каким числом Вы бы его заменили?
1/4 1/6 1/8 1/9 1/12 1/14?
46. Три партнера по акционерному обществу «Интенсивник» решили поделить прибыль поровну. Т. вложил в дело 4500 руб, К. — 3500 руб, П. — 2000 руб. Если прибыль составит 2400 руб, то насколько меньше прибыль получит Т. по сравнению с тем, как если бы прибыль была разделена пропорционально вкладам?
47. Какие две из приведенных ниже пословиц имеют сходный смысл:
1. Куй железо, пока горячо.
2. Один в поле не воин.
3. Лес рубят, щепки летят.
4. Не все то золото, что блестит.
5. Не по виду суди, а по делам гляди?
48. Значение следующих фраз:
1 — сходно, 2 — противоположно, 3 — ни сходно, ни противоположно.
Лес рубят щепки летят.
Большое дело не бывает без потерь.
49. Какая из этих фигур наиболее отлична от других?



50. В печатающейся статье 24000 слов. Редактор решил использовать шрифт двух размеров. При использовании шрифта большого размера на странице умещается 900 слов, меньшего — 1200. Статья должна занять 21 полную страницу в журнале. Сколько страниц должно быть напечатано меньшим шрифтом?